

令和5年度
広島県瀬戸内高等学校一般入学試験問題

社 会

(50 分)

..... 注 意 事 項

1. 試験開始の合図があるまで、この冊子を開いて見ないこと。
2. 解答は必ず解答用紙の指定された箇所に記入すること。
3. 問題・解答用紙に落丁、乱丁、印刷不明な箇所があれば申し出ること。
4. 問題・解答用紙の指定欄の太枠内に、受験番号を忘れずに記入すること。
5. 問題・答案は試験終了後、監督員の指示によって回収するので、終了の合図までそのまま静かに着席していること。
6. 余白は自由に使って良い。

受験 番号	
----------	--

- ① あるクラスでは、社会の授業でヨーロッパについて調べて発表することになった。各グループが作成した次のレポートを見て、以下の問いに答えなさい。

○レポート1 歴史（ローマ帝国）について

紀元前8世紀頃、イタリア半島中部にはラテン人が住んでおり、ローマは紀元前30年には①地中海を囲む地域を支配する大きな国となっていった。同じころ政治においては皇帝が支配する帝政に変わり、文化においては、水道や公衆浴場や②闘技場などの施設が造られるなど、ローマ帝国は繁栄を極めた。

○レポート2 EUについて

③EUとは欧州連合の略で、1993年に前身のECから拡大するかたちでマーストリヒト条約の発効によって誕生した。1995年に発行されたシェンゲン協定により、加盟国間では人やモノ、サービスが自由に行き来できるようになり、2002年には④単一通貨がEUで導入されるなど国際金融市場にも大きく貢献することとなった。しかし、移民の受け入れや⑤イギリスの離脱後にEUが結束できているかなど、⑥様々な問題を抱えている。

○レポート3 地理について

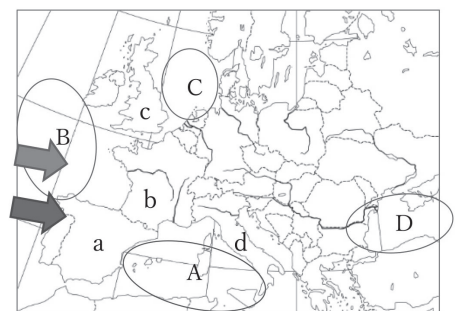
ヨーロッパには、中央部を東西に横切る4000m級のアルプス山脈がある。そのスイスアルプスにあるトーマ湖から流れる⑦ライン川は、ドイツを縦断して北海に注いでいる。⑧EU最大の農業国と呼ばれるフランスでは小麦が多く生産され、フランスの食料自給率は127%と日本の38%を大きく上回っている※。 ※ 農林水産省「食料需給表」参照

○レポート4 医学（疫病）について

14世紀のヨーロッパではペストと呼ばれる⑨疫病が大流行した。この病は皮膚に黒い斑点が生じて死に至ることから黒死病とも呼ばれた。ヨーロッパの人口の3分の1が命を失ったとされるが、19世紀に⑩日本人の細菌学者の功勞により有効な予防法・消毒法が実施され、治療法の研究も開始することができた。

問1 下線部①について、以下の問いに答えなさい。

- (1) 地中海は右の地図のどの海域か、地図中のA～Dから一つ選び、記号で答えなさい。
- (2) イタリアは右の地図のどこにあるか、地図中のa～dから一つ選び、記号で答えなさい。



『帝国書院 白地図（地域図）』より

- (3) 右の地図中の ➡ はヨーロッパの西岸海洋性気候に影響を与えている、1年中西から東へ吹く風を表しているが、この風を何というか答えなさい。

問2 下線部②について、当時建てられた闘技場の写真として正しいものはどれか。次のⅠ～Ⅲから一つ選び、記号で答えなさい。


Ⅰ



Ⅱ



Ⅲ



問3 下線部③について、なぜEUが誕生したか。「政治」「経済」の2語を必ず使って説明しなさい。

問4 下線部④について、EUの単一通貨の名称をカタカナ3字で答えなさい。

問5 下線部⑤について、イギリスに関する以下の問いに答えなさい。

(1) イギリスで蒸気機関が改良された頃から始まり、技術の向上により産業や社会が大きく変化したことを何というか。漢字4字で答えなさい。

(2) イギリスはかつて世界中から原材料を輸入し、世界中を輸出の対象として、世界の工業をリードしていた。この状態を「世界の○○」と呼んだ。○○に当てはまる語句を漢字2字で答えなさい。

(3) イギリスの政治は日本と同じ制度がとられている。行政権の主体である内閣が議会の信任によって成り立っている政治制度を答えなさい。

問6 下線部⑥について、後日、担当グループがさらに詳しく調べることにした。そのうちの一つが<ギリシャの財政危機>であった。以下の問いに答えなさい。

<ギリシャの財政危機>

- ・2009年の政権交代後、財政赤字を過小評価していたことが明らかになり、ギリシャの債務返済能力が疑われ、国債の格付けも引き下げられた。
- ・財政再建のために こととした。
- ・2014年には実質GDP成長率もプラスに転じたが、現在も経済不安が残る。

(1) <ギリシャの財政危機>の文中にある□に当てはまる文章として正しいものを、次のア～エから一つ選び、記号で答えなさい。

ア. 自国の元の通貨に変更し、紙幣を大量に発行してギリシャ国内で大量に消費してもらう

イ. 増税や年金改革、公務員改革、公益事業民営化など厳しい財政政策を行う

ウ. 電気や公共交通機関などを国の重要産業に指定し、国の財政から投資して救済する

エ. 減税や所得の倍増を計画し、国民消費を増やして景気の回復を目指す

(2) <ギリシャの財政危機>の文中にある下線部について、GDPを日本語訳すると何というか。次のア～エから一つ選び、記号で答えなさい。

ア. 国民総生産 イ. 生産国民所得 ウ. 国内総生産 エ. 国民純生産

問7 下線部⑦について、ライン川沿いにあるドイツ屈指の工業地帯を答えなさい。

問8 下線部⑧について正しい説明文を、次のア～エから一つ選び、記号で答えなさい。

ア. フランスは乾燥していて雨が降らないため、タロイモやキャッサバを栽培している

イ. フランスは山岳地帯に位置しているため、高地でリヤマを放牧している

ウ. フランスは世界有数のブドウの産地で、ブドウを使ったワインを多く生産している

エ. フランスは世界有数の稲作地帯で、世界全体の生産量の3割を占めている

問9 下線部⑨について、疫病の「世界的な流行」のことを「パ○○○○ク」という。○に当てはまる語句を解答欄に書きなさい。

問10 下線部⑩について、病原菌であるペスト菌を発見したのは2024年に新しい千円札に印刷される人物だが、その人物とは誰か。次のア～エから一つ選び、記号で答えなさい。

ア. 津田梅子 イ. 野口英世 ウ. 渋沢栄一 エ. 北里柴三郎

② 次のA君とB子さんの会話文を読んで、以下の問いに答えなさい。



A君



見て！この絵！！

このたくさんの絵は何？色んな形が描かれているわね。

B子

A君



これは2015年に①国際連合の「持続可能な開発サミット」で採択されたSDGs（エスディー・ジーズ）と呼ばれる目標を表しているんだ。国際連合に加盟している193か国が2016～2030年の15年間で達成するために掲げられたんだよ。

B子

A君



それなら聞いたことがあるわ！それぞれの活躍できる分野で活動をして、みんなでこの17の目標を達成するのよね！

その通り。その中でも、右の図のターゲットの1つとして「2025年までに海洋ごみを大幅に削減する」が掲げられていて、②2019年のG20のサミットでも海洋プラスチックごみによる新たな汚染ゼロを目指す目標が立てられたんだ。



そんなに海洋プラスチックごみは多いの？

B子

A君



とても多いんだよ！世界全体のプラスチックごみの量は少なくとも年間800万トン出っていて、このままだと2050年には魚よりプラスチックごみの方が多くなると予想されているんだ。

そんなに多いの！？そうだとしたら、私たちの生活の中からプラスチックごみが出ないようにしないとイケないわね。

B子

A君



そうだね、できることから少しずつ、そして目標もたくさんあるから、1つでも多くの目標を同時進行して、③SDGsを世界のみんなで達成しよう！

問1 下線部①について、次の問いに答えなさい。

- (1) 国際連合の本部がある都市の名前を答えなさい。
- (2) 国際連合の専門機関の一つである世界保健機関をアルファベット3字で答えなさい。

問2 下線部②について、このサミットが開かれたのは日本のどこの都市か。次のア～エから一つ選び、記号で答えなさい。

ア. 札幌 イ. 東京 ウ. 大阪 エ. 福岡

問3 下線部③の目標13「気候変動に具体的な対策を」について、以下の問いに答えなさい。

- (1) 地球温暖化の主な原因とされている二酸化炭素やフロン・メタンなどの気体を総称して何というか。
- (2) 2016年のパリ協定は1997年の京都議定書の後継とされるもので、「世界の平均気温上昇を産業革命以前に比べて2℃より十分低く保ち、1.5℃に抑える努力をする」とされている。CO₂排出量を減らす取り組みとして誤っているものを次のア～エから一つ選び、記号で答えなさい。
 - ア. 家電製品で長時間使わないものは、コンセントを抜くようにする
 - イ. 冷房の設定温度を3℃低くし、無駄な運動をしないようにする
 - ウ. 再生可能エネルギーである太陽光発電を増やして、火力発電の量を抑える
 - エ. 電気自動車の数を増やし、ガソリンの消費を抑える

問4 A君とB子さんは、会話をした後、環境問題について気づいたことを調べて、それぞれレポートにまとめた。レポートの内容を読んで、以下の問いに答えなさい。

レポート1〔A君〕

◆地球環境について



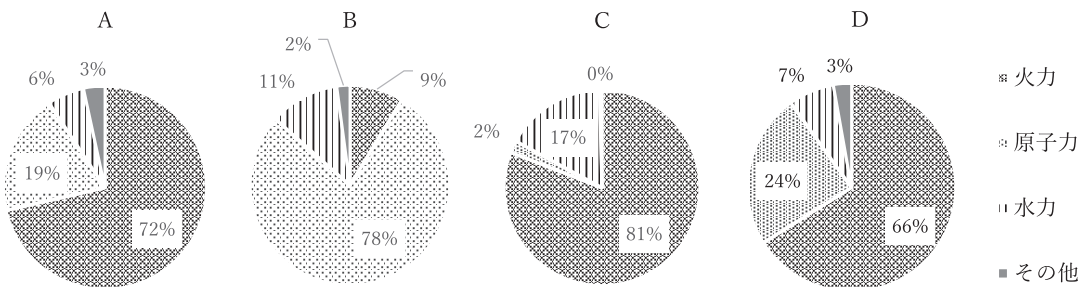
- プラスチック製買物袋（レジ袋）について、2020年7月1日より（ a ）化がスタートした。
- プラスチックゴミを減らすことで、①地球温暖化を遅らせることができる。
- ②エネルギーの消費量は、年々増加している。世界で多く使用されているエネルギー消費量の8割は、石油・石炭・天然ガスなどの（ b ）である。その埋蔵量が減少しているので、省資源・省エネルギーの技術開発が大切。
- 新たなエネルギー資源の開発が注目されている。

◆循環型社会について



- 私たちの生活の在り方を変えていかなければならない。
- ゴミ問題は、環境破壊の原因にもなるので、3Rが大切だ。
 - ・ Reduce = （ c ）
 - ・ Reuse = 再使用
 - ・ Recycle = 再利用

- (1) レポート1の（ a ）～（ c ）に当てはまる語句を答えなさい。
- (2) 下線部①について、有害な紫外線を吸収している層を答えなさい。
- (3) 下線部②について、下のグラフは、各国の発電電力量を示している。A～Dに当てはまる国名を次のア～エから選び、記号で答えなさい。




〔『原子力・エネルギー』図面集 2012〕より

- ア. 日本 イ. 中国 ウ. フランス エ. アメリカ

レポート2 [B子さん]

◆明治時代の環境問題について



○日本の環境問題

→栃木県（ d ） 鉱毒事件

○渡良瀬川流域で、洪水と土砂の流出により高濃度の硫酸銅が流れ出し水質汚染がおこった。

○栃木県衆議院議員（ e ） が生涯を尽くし問題に取り組んだ。

◆高度経済成長期の環境問題について



○1950年代以降、高度経済成長を背景に日本では被害者を生む深刻な③公害問題が起こった。

○大気汚染や水質汚濁などの公害問題で被害を受けた住民は、各地で公害反対運動を起こした。

(4) レポート2の（d）に入る鉱山名と（e）に入る写真の人物名の組み合わせとして正しいものを、次のア～エから一つ選び記号で答えなさい。

- ア. d - 足尾銅山 e - 菅義偉 イ. d - 佐渡金山 e - 田中正造
ウ. d - 足尾銅山 e - 田中正造 エ. d - 石見銀山 e - 伊藤博文

(5) 下線部③の四大公害病とその被害地域の組み合わせとして、正しいものを次のア～エから一つ選び、記号で答えなさい。

（四大公害病）イタイイタイ病 四日市ぜんそく 水俣病

（被害地域）①熊本県 ②三重県 ③神奈川県 ④富山県

- ア. イタイイタイ病-① 四日市ぜんそく-③ 水俣病-②
イ. イタイイタイ病-③ 四日市ぜんそく-① 水俣病-④
ウ. イタイイタイ病-④ 四日市ぜんそく-② 水俣病-①
エ. イタイイタイ病-② 四日市ぜんそく-④ 水俣病-③

(6) 日本の高度経済成長による人口分布の変化を「過疎化」「都市部」「農村部」の3語を必ず使って説明しなさい。

- ③ 社会の授業の一環として博物館を訪れ、その中で一番印象に残った展示品について調べた。
以下の問いに答えなさい。

【展示品】



(資料：神戸市立博物館)

- 問1 屏風に描かれている宣教師たちとの出会いは、ポルトガル人やスペイン人が日本に来航したことから始まる。次の説明文のA・Bに当てはまる語句として正しい組み合わせを次のア～エから一つ選び、記号で答えなさい。

1543年①ポルトガル人によって種子島に（ A ）が伝えられた。これは、1575年に織田信長が武田勝頼を破った（ B ）に見られるように、日本の戦に大きな変化をもたらした。また、②1549年には日本にキリスト教が伝えられた。当初、織田信長はキリスト教を容認していたが、豊臣秀吉の時代には宣教師を迫害する政策を出した。そして③江戸時代においても、1612年に禁教令を出し、キリスト教の弾圧を行った。

- ア. A - 羅針盤 B - 長篠の戦い イ. A - 鉄砲 B - 関ヶ原の戦い
ウ. A - 鉄砲 B - 長篠の戦い エ. A - 羅針盤 B - 関ヶ原の戦い

- 問2 上記の説明文の下線部①に関連して、ポルトガル人やスペイン人を何と呼んだか漢字3字で答えなさい。

- 問3 下線部②について、このとき、イエズス会の宣教師として来日した人物の名前を答えなさい。

- 問4 下線部③に関連して、天草四郎を中心に、キリスト教徒の迫害や重い年貢の取り立てに苦しんだ農民や漁民が一揆を起こした。この反乱を答えなさい。

- 問5 キリスト教徒の根絶のために、信者ではないことを証明するために用いた、右の写真の道具の名称を答えなさい。



- ④ あるクラスの歴史の授業で、「沖縄」をテーマにして、教科書を見ながら調べ学習を行った。各班で作成した次のカード1～3を見て、以下の問いに答えなさい。

カード1

15世紀初めの琉球では、三つの勢力に分かれていたが、中山の王となった尚氏が琉球を統一し、①琉球王国を建てた。船で東南アジアまで貿易の行動範囲を広げ、その産物を明や日本、朝鮮にもたらず（ A ）貿易を行い、繁栄した。

カード2

1872年に日本政府は、琉球王国を琉球藩とした。さらに日本政府は1879年には、武力を背景に、琉球藩の廃止を強行して沖縄県を設置した。

カード3

アメリカ軍は、1945年3月の東京大空襲から主要都市への無差別的な空襲を激しくした。3月26日には、沖縄の慶良間諸島へ上陸し、4月に沖縄本島へ上陸した。この沖縄戦で日本軍は兵力不足を中学生や女学生まで兵士や看護要員として動員して抵抗したが、激しい戦闘により沖縄県民の犠牲者は12万人以上になった。その後、（ B ）に原爆を投下され、日本は②連合国による宣言を受け入れ、降伏することを決めた。

問1 カード1について、以下の問いに答えなさい。

- (1) （ A ）に当てはまる語句を答えなさい。
- (2) 下線部①について、右の写真は琉球王国の政治の中心となった建物である。この名称を答えなさい。



問2 カード2は、1871年の廃藩置県に遅れて、沖縄で同様のことが行われたものである。この一連の出来事を何と呼ぶか答えなさい。

問3 カード3について、以下の問いに答えなさい。

- (1) （ B ）に当てはまる都市を二つ答えなさい。
- (2) 下線部②について、この宣言を何と呼ぶか答えなさい。

⑤ 日本の政治・経済について、問いに答えなさい。

問1 日本国憲法の第3章国民の権利及び義務について以下の問いに答えなさい。

(1) 次のA～Dの中から日本国憲法で保障されている国民の権利の中で、自由権に分類される内容の組み合わせとして正しいものを次のア～エから一つ選び、記号で答えなさい。

- A. 性別を理由に差別されない権利
- B. 身体を不当に拘束されない権利
- C. 健康で文化的な最低限度の生活を営む権利
- D. 財産を持つ権利

ア. AとB イ. BとC ウ. BとD エ. CとD

(2) 日本国憲法で保障されている基本的人権の中で、社会権のうち、「労働基本権」と「勤労の権利」以外の権利を次のア～エからすべて選び、記号で答えなさい。

ア. 生存権 イ. 裁判を受ける権利 ウ. 教育を受ける権利 エ. 請願権

(3) 次の条文の（ ）にあてはまる語句を答えなさい。

第13条 すべて国民は、個人として尊重される。生命、自由及び幸福追求に対する国民の権利については、（ ）に反しない限り、立法その他の国政の上で、最大の尊重を必要とする。

問2 我が国の三権分立について、問いに答えなさい。

(1) 世界の多くの国々が権力を分立させる仕組みを取っているが、このように国の権力を分立させるねらいを「権力」と「国民の権利」の2語を必ず使って説明しなさい。

(2) 我が国の国会は、衆議院と参議院の両院からなる二院制をとっている。日本国憲法では、いくつかの事項について、衆議院の優越が認められているが、この衆議院の優越が認められている事項として正しいものを、次のア～エから一つ選び、記号で答えなさい。

- ア. 弾劾裁判所の設置 イ. 政令の制定
- ウ. 国務大臣の任命 エ. 内閣総理大臣の指名

(3) 内閣の役割について述べた文として正しいものを、次のア～エから一つ選び、記号で答えなさい。

ア. 条約締結の承認

イ. 予算の議決

ウ. 最高裁判所長官の指名とその他の裁判官の任命

エ. 法律案の議決

問3 次の問いに答えなさい。

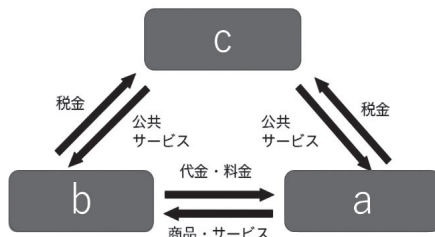
(1) 下の図は、我が国の経済全体のしくみを図にしたものであり、図中のa～cは、それぞれ家計、企業、政府のいずれかに当たる。a～cに入る語句の組み合わせとして正しいものを次のア～エから一つ選び、記号で答えなさい。

ア. (a 企業 b 家計 c 政府)

イ. (a 家計 b 企業 c 政府)

ウ. (a 政府 b 企業 c 家計)

エ. (a 家計 b 政府 c 企業)



(2) 「税金」は、国や地方公共団体に税金を納める人と実際に負担する人が一致している直接税と、税金を納める人と負担する人が一致していない間接税に分けることができる。直接税であるものを次のア～エからすべて選び、記号で答えなさい。

ア. 相続税

イ. 所得税

ウ. たばこ税

エ. 消費税

(3) 国の財政の役割に「景気の調整」があるが、次の文章は好景気（好況）の際の財政政策を説明したものである。文中の（ a ），（ b ）にあてはまる語句の組み合わせとして正しいものを次のア～エから一つ選び、記号で答えなさい。

一般的には、好景気（好況）の時には、政府は景気の行き過ぎを防ぐために（ a ）を実施したり、公共事業を（ b ）ようにしたりして、生産や消費活動を抑えようとする。

ア. a - 増税

b - 減らす

イ. a - 減税

b - 増やす

ウ. a - 減税

b - 減らす

エ. a - 増税

b - 増やす

(4) 日本の中央銀行である日本銀行の役割を述べた文章の中で、誤っているものを次のア～エから一つ選び、記号で答えなさい。

ア. 市中銀行から預金を預かり、必要に応じて、市中銀行へ資金を貸し出す

イ. 日本銀行券と呼ばれる紙幣を発行する

ウ. 政府資金の出し入れをおこなう

エ. 財やサービスの価格と取引量を決める